

## Aan het eind van blok 1:

kan ik optellen aan de hand van het HTE-schema




a  $163 + 724 =$

	H	T	E	
	1	6	3	
+	7	2	4	
	8	0	0	(100 + 700)
		8	0	(60 + 20)
			7	(3 + 4)
				(800   80   7)

kan ik handig vermenigvuldigen

$$4 \times 15 = 4 \times 10 + 4 \times 5 = 40 + 20 = \dots$$

kan ik deelsommen zonder rest maken

	:	9	=	6
25	:		=	5
50	:		=	5

kan ik begrippen als de helft, een derde en een kwart toepassen in concrete situaties

