


## Aan het eind van blok 3 :

kan ik

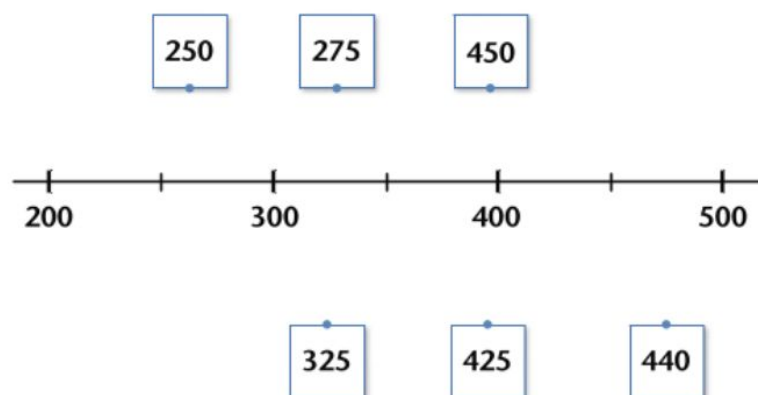
Digitale kloktijden aangeven op een analoge klok en digitale tijden rangschikken



kan ik

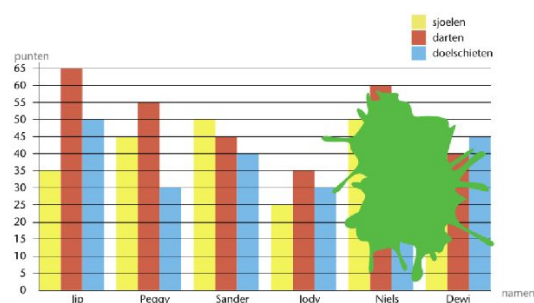
Aangeven tussen welke honderdtallen een gegeven getal hoort

Waar ongeveer?  
Trek een lijn.



kan ik

Optellen, aftrekken en aanvullen tot en met 200 in een context situatie



Hoeveel punten verschil is er tussen Sander en Jody?  
Hoeveel punten hebben Sander en Jody samen bij sjoelen?

kan ik

De tafel van 9 uit mijn hoofd opzeggen en de strategie van 1x meer en 1x minder toepassen

$4 \times 9 = 36$ , dus  $5 \times 9$  is een groepje van 9 erbij.  
 $36 + 9 = 45$